


# MATEMATİK - KESİRLER (2.SINIF)



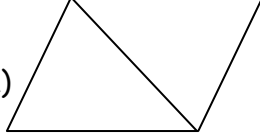
{ Bir bütünü oluşturan iki eş parçanın her birine **yarım** denir. }

Aşağıdaki şekillerin yarısını örnekte olduğu gibi boyayınız.

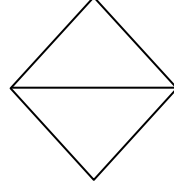
Örnek:




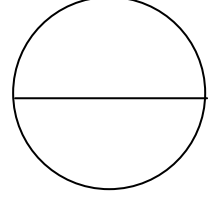
a)



b)




c)




{ Bir bütünü oluşturan dört eş parçanın her birine **çeyrek** denir. }

Aşağıdaki şekillerin çeyreğini örnekte olduğu gibi boyayınız.

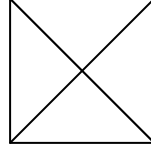
Örnek:



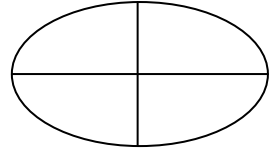
a)



b)



c)



Aşağıdaki boşlukları uygun şekilde tamamlayınız.

1- Bir bütünü dört eş parçaya ayırdığımızda, eş parçalardan her birine ..... denir.

2- İki tane yarım bir ..... eder.

3- Bir bütünü iki eş parçaya ayırdığımızda, her bir parçaya ..... denir.

4- Dört tane çeyrek bir ..... eder.

Aşağıdaki varlıkların sayılarının yarısını boyayınız.



Yarısı.....eder.

Yarısı.....eder.



Yarısı.....eder.

Yarısı ..... eder.

Yalan da Değil

- Bir but eti, dörde ayırırsam kaç parça olur?
- Dört parça
- Sekize ayırırsam?
- Sekiz parça olur.
- Peki, sekiz yüze ayırırsam?
- Kıyma olur babacığım.

