



1. Aşağıdaki resimlerdeki olayların sırası hangisinde yanlış verilmiştir?



- a) 3 → okul hazırlığı
b) 2 → okul dönüşü
c) 1 → eve dönüş



1



Okul kıyafetini giydi.

2



Zeynep okula hazırlanmak için erken kalktı. Elini, yüzünü yıkadı.

3



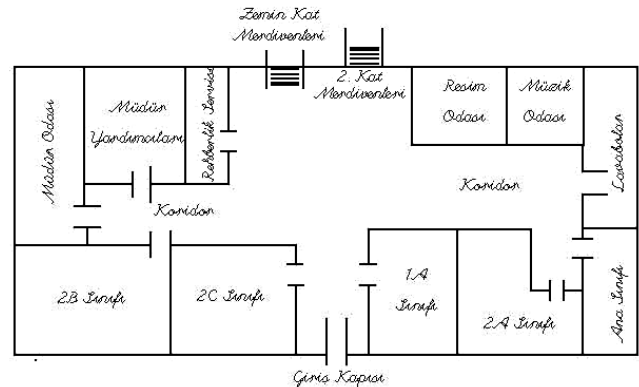
Kahvaltıdan sonra dişlerini fırçaladı.

4

Yukarıdaki resimlerde olayların oluş sırası aşağıdakilerden hangisinde doğrudur?

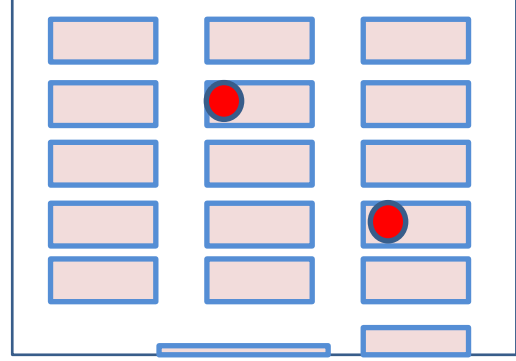
- a) 2-1-3-4
b) 3-4-1-2
c) 4-2-3-1
3. Yukarıdaki kaç numaralı resimdeki çocuk kişisel bakım yaparken destek alıyordu?
- a) 1 b) 2 c) 3

4. Yandaki krokiye göre 2-A sınıfının hangisinde doğru verilmiştir?
- a) Müzik odasının sağında
b) 1-A sınıfının sağında
c) Laboratuvarın sağında



5. Sınıfımızın oturma planına göre kırmızı gösterilen sırlarda kimler oturuyordur?

- a) Hasan-Ekrem
- b) Mihrinur –Kudret
- c) Aybars- Kudret



6. Aşağıdaki okul kuralların hangisi tutumlulukla ilgilidir?

- a) Koridorlarda koşmamalıyız
- b) Okuldan izinsiz ayrılmamalıyız?
- c) Gereksiz akan muslukları kapatmalıyız.

7.

Hoşgörü

Aday

Adalet

Menfaat

Seçim

Kargaşa

Yukarıdaki sözcüklerden kaç tanesi demokrasi ile ilgilidir?

- a) 3
- b) 4
- c) 5

8. “ Çatma kurban olayım çehreni ey nazlı hilal!” diye okunan metnin adı aşağıdakilerden hangisidir?

- a) Andımız
- b) Bayrak marşı
- c) İstiklal Marşı

Bir milleti temsil eden
semboldür.



9. Mihrinur yanda hangi soruyu açıklamıştır?


- a) Marş nedir?
- b) Bayrak nedir?
- c) Millet nedir?

10.

Günde iki öğün
arpa ile saman yerim



Sabah havuç çorbası, öğle
havuç kızartması, akşama
havuç dolması



Günde üç öğün yemek
yerim, ara öğünlerde fare
ile idare ediyoruz.



Yukarıdaki kahramanların söylediklerine göre aşağıdakilerden hangisi **en doğrudur.**

- a) At dengeli ve düzenli besleniyor.
- b) Tavşan düzenli besleniyor.
- c) Kedi düzenli besleniyor.

11. “Ali müzik dinlemeyi, Sıla resim yapmayı, Ayşe Beyza gitar çalmayı , Dilay keman çalmayı seviyor, hepside halk oyunları oynuyor.”

Yukarıdaki metne göre hangi söylenen **doğrudur?**

- a) Fiziksel özelliklerimiz farklıdır.
- b) Hepimizin ortak özelliği halk oyunu oynamamızdır.
- c) İlgi ve yeteneklerimiz benzerdir.

12. Aşağıdaki hangisi bir duygusunu ifade **etmemiştir?**

- a) Mustafa
- b) Furkan
- c) Enes

13. Aşağıdakilerden hangi eşleştirme **doğru** yapılmıştır?

- a) uçak- kaptan
- b) gemi- geminist
- c) vapur-kaptan



14. Aşağıdakilerden hangisi **yanlış** bir davranıştır?

- a) Caddelerde yürürken kaldırımlardan yürümek.
- b) Duran arabaların arkasından çıkmam.
- c) Karşıdan karşıya geçerken koşarak geçirim.

15.



- Yukarıdaki görsellerden tam ortadaki kişinin mesleği hangisidir?

- a) veteriner
- b) madenci
- c) koruma görevlisi

16. " Benim işim ağaca şekil vermek. Tahtayla uğraşır, kapılar, pencereler yaparım." diyen bir kişinin mesleği ne olabilir?

- a) ressam
- b) marangoz
- c) heykeltıraş

17. Dirsek ile dizimiz vücudumuzun hangi bölümünde bulunur?

- a) Gövde
- b) kollar-bacaklar
- c) Baş

18.

1. **Bilinçli tüketici acil ihtiyaçlarına öncelik verir.**
2. **Alış-veriş listesinde öncelik sırasının belirler.**
3. **Marka ve reklamlara değer verir.**
4. **Yaptığı alış veriş sonunda fiş alır.**
5. **Kaynakları boşa harcamaz.**



Bilinçli tüketicinin arabasına yukarıdaki anlatılanlardan hangisi girmez?

- a) 3
- b) 4
- c) 5

19. Oluş sırasına göre hangisi önce kutlanır?

- a) Cumhuriyet Bayramı
- b) Atatürk Haftası
- c) İlköğretim haftası

20. " Akraba ve komşuların ziyaret edildiği, yardımlaşmanın ve dayanışmanın yapıldığı en güzel örneğidir." şeklindeki ifade ile ne anlatılmak istenmiştir?

- a) Cumhuriyet Bayramı
- b) Dini bayramlarımız
- c) Yılbaşı günü.

21. Aşağıdakilerden hangisi iletişim aracı değildir?

- a) telefon
- b) gazete
- c) Ansiklopedi

