

Adı Soyadı : .....

Numara:.....

1. İstiklal Marşımızın Şairi hangi şıkta doğru verilmiştir?



A) Mehmet Akif ERSOY



B) Namık KEMAL




C) Atatürk

2. Bayrağımız ile ilgili verilenlerden hangisi **yanlıştır**?

- A) Ay ve yıldız vardır..  
B) Bağımsızlığımızın sembolüdür.  
C) Kırmızı ve mavi renklidir.

3. Aşağıdakilerden hangisi sınıf kurallarındandır?




Konuşanın sözünü kesmemek

Çok yüksek sesle konuşmak.



Parmak kaldırarak söz istemek.



A)



B)



C)

4. Aşağıdakilerden hangisi kişisel bakım eşyası **değildir**?

- A) tarak B) kalem C) tırnak makası

5. Planlı yaşayan Semra aşağıdakilerden hangisini **yapmaz**?



Bol bol televizyon izlemek.



Ödevlerini zamanında yapmak.



Ders programına göre çantasını hazırlamak.



A)



B)



C)

6. Görsel Sanatlar dersi olan Mesut, okul çantasına aşağıdakilerden hangisini koymalıdır?



A)



B)



C)

7. Sınıfta İstanbul'u anlatan Mehmet, aşağıdakilerden hangisini **söylememiştir**?

A)

İstanbul, güzel yurdumuzun bir parçasıdır.

B)

Okula zamanında gelmeliyiz.

C)

İstanbul ülkemizin en kalabalık şehridir.

8. Arkadaşlarımızla bir şeyleri paylaşmamız nasıl bir davranıştır?

- A) Gereksiz B) Olumsuz C) Olumlu

9. Sultan, Berna'ya "**Biraz zeytin alır mısın?**" diye sordu. Sizce bu konuşma nerede geçmiştir?

- A) sınıfta B) koridorda C) sokakta

10.



Hemen eve gitmeliyiz, yoksa annemiz ..... eder.

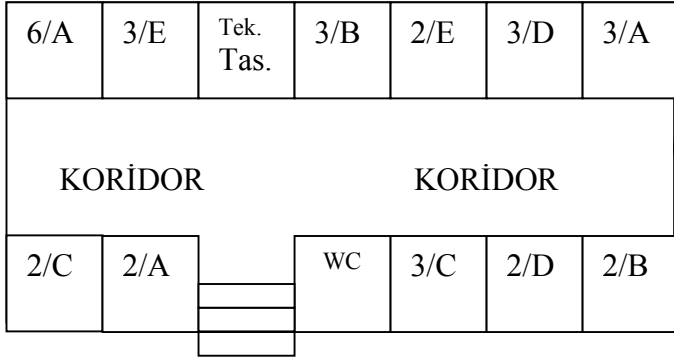
Yukarıdaki cümlede noktalı yere aşağıdaki sözcüklerden hangisi gelebilir?

- A) kızar B) sever C) merak

11. Ev kurallarından bir tanesini yazar mısın?

.....

Sınıfımızın bulunduğu katın krokisi aşağıdadır. Buna göre aşağıdaki soruları krokiye göre cevaplandırınız.



Yan. Mer.

12. Sınıfımızın karşısında hangi sınıf bulunmaktadır?

- A) 3/A B) 2/D C) 3/D

13. Merdivenlerden çıkınca karşımızda hangi sınıf vardır?

- A) 3/E B) Teknoloji Tasarım Sınıfı C) 3/B

14. Tuvaletlerin yanında hangi sınıf vardır?

- A) 3/B B) 3/C C) 2/E

15. 2/D sınıfının yerini hangi bebek doğru belirtmiştir?



2/A sınıfının yanındadır.



3/C ile 2/B arasındadır.



2/E sınıfının karşısındadır.

- A) B) C)

16. Sınıfımızla ilgili bilgilerden hangisi **yanlıştır**?



3/A sınıfının karşısındadır.

2/E sınıfının yanındadır.



2/D sınıfının yanındadır.

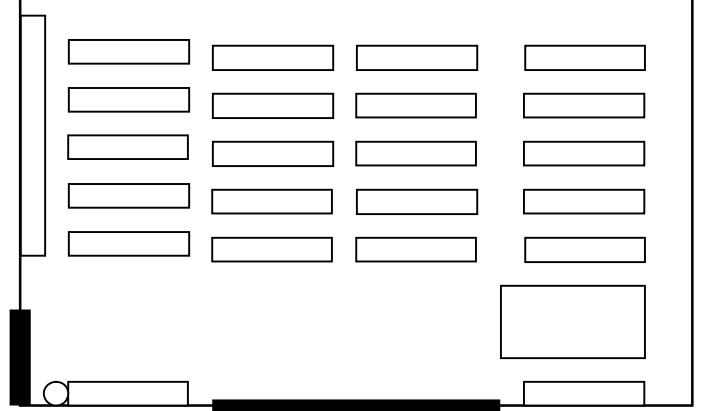


- A) B) C)

17. Planlı olan Binnur cuma günü çantasına koymuştur. Buna göre Binnur'un Cuma günü hangi dersi vardır?

- A) Beden Eğitimi B) Müzik C) Görsel Sanatlar

18. Aşağıdaki krokide oturduğunuz yeri X ile işaretleyiniz.



19. Melek yukarıdaki krokisi yer alan sınıfta pencere tarafında ve en arka sırada oturmaktadır. Buna göre Melek'in oturduğu sırayı kırmızı kalemle boyar mısın?

20. Sağlıklı beslenen Burcu aşağıdakilerden hangisini tercih **etmez**?

- A) Kola B) Süt C) Yumurta

21. Aşağıdakilerden hangisi dengeli ve sağlıklı beslenen birinin yapması gerekenlerdir?

- △ Açıkta satılan yiyecekleri almam.  
Ω Her türlü besinden yeteri kadar alırım.  
Ⓡ Yemekten önce ve sonra ellerimi yıkarım.

- A) △ Ω B) Ω Ⓡ C) Ⓡ Ω △

22. Sınıf kurallarından 3 tanesini yazar mısın?

- 1.....  
2.....  
3.....